



초등 수학 A

() 초등학교 () 학년 () 반 () 번 이름()

18. 나눗셈(나누기)을 하여 몫(상)을 바르게 구한 것은?
()

$$5 \overline{) 45}$$

- ① 7 ② 8
- ③ 9 ④ 10

19. 1분은 몇 초입니까? ()

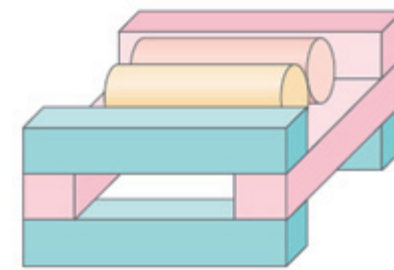
- ① 30초 ② 40초
- ③ 50초 ④ 60초

20. 1kg(키로그램)은 1000g(그램)입니다. 2kg(키로그램) 500g(그램)은 몇 g입니까?

$$2\text{kg } 500\text{g} = \square \text{ g}$$

- ① 2005 ② 2050
- ③ 2500 ④ 2505

1. 그림과 같이 쌓기 위해서는 모양, 모양, 모양이 각각 몇 개씩 필요한가요? (같은 색깔의 모양은 크기가 같습니다.)



모양: 개, 모양: 개,
 모양: 개

2. 칭찬스티커를 재선이는 6장 소희는 4장을 받았습니다. 재선이는 소희보다 칭찬스티커를 몇 장 더 많이 가지고 있는지 뺄셈식(털기식)으로 쓰시오.

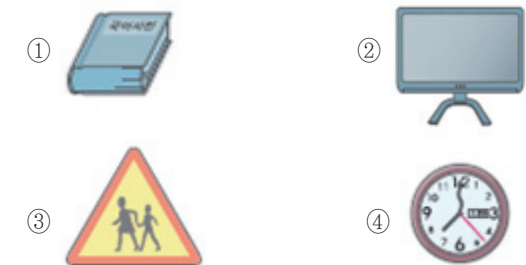
재선	
소희	

$$6 - \square = \square$$

3. 참새 4마리가 전깃줄에 앉아 있었습니다. 참새 3마리가 더 날아와서 전깃줄에 앉았습니다. 참새는 모두 몇 마리입니까?

()마리

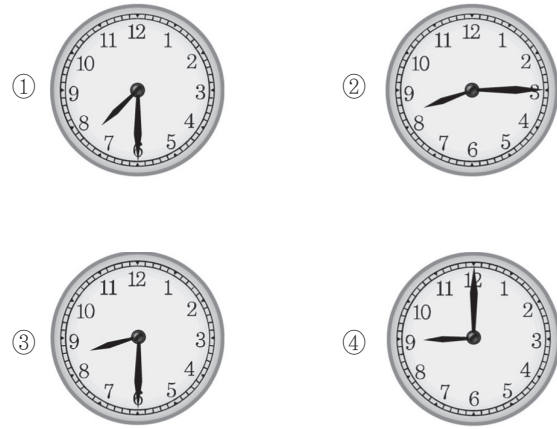
4. 다음 물건 중 바닥에 대고 그린 모양이 모양인 것은 어느 것입니까? ()



5. 뺄셈(털기)을 하시오.

$$\begin{array}{r} 46 \\ - 4 \\ \hline \square \end{array}$$

6. 8시 30분을 나타낸 것은 어느 것입니까? ()



7. 나무에 까치가 12마리 앉아 있었습니다. 잠시 후 이 중에서 5마리가 날아갔습니다. 나무에 남아있는 까치는 몇 마리입니까?

마리

8. 규칙을 찾아 빈 곳에 알맞은 수를 써넣으시오.

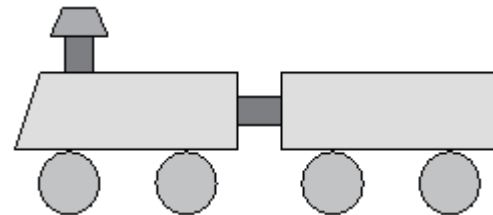
- 31 - - 45 - - 59 - 66

9. 철수는 돼지저금통에 모았던 돈을 모두 꺼내보았습니다. 모두 얼마인지 세어보세요.



원

10. 그림에서 원은 모두 몇 개 있습니까?




개

11. 다음 뺄셈(덜기)을 하시오.

$$\begin{array}{r} 74 \\ - 27 \\ \hline \end{array}$$

12. 한 상자 안에 토마토가 4개씩 들어있습니다. 다섯 상자 안에 들어있는 토마토는 모두 몇 개인지 곱셈식(곱하기 식)으로 나타내시오.



$4 \times \text{□} = \text{□}$

13. 안에 옳은(알맞는) 수를 쓰시오.

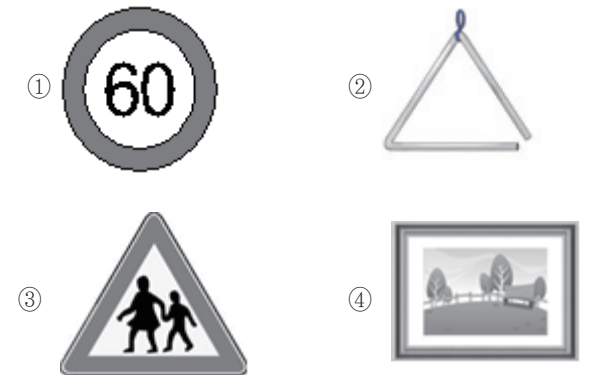
$7 \times \text{□} = 49$

14. 다음을 숫자(수자)로 쓰시오.

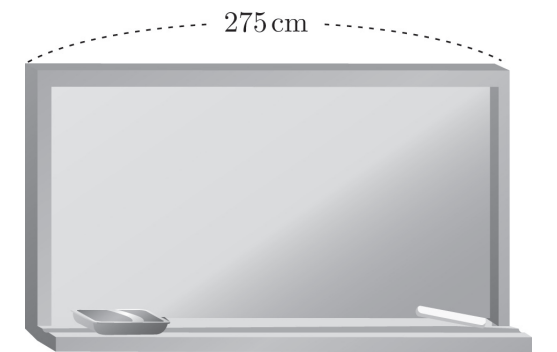
육백삼십이

()

15. 사각형(4각형) 모양을 찾을 수 있는 물건은 어느 것입니까? ()



16. 칠판의 긴 쪽(가로)의 길이는 몇 m 몇 cm입니까?



()m ()cm

17. 다음 도형에서 직각은 모두 몇 개입니까? ()



① 1 ② 2
 ③ 3 ④ 4